

**1** 次の文章(1)～(5)を読んで、それぞれの正解を語群から1つ選び、それらが所在する都道府県名を地図上の番号①～⑩から1つ選んで、解答欄にマークしなさい。(各2点×10=20点)

(1) 5世紀後半頃古墳で、地方豪族が武人として大王の政治を支えたことなどが刻まれた鉄剣が出土した。

- ①江田船山古墳      ②稲荷台1号墳      ③岡田山1号墳  
④大仙陵古墳      ⑤稲荷山古墳

用語	41		地図	42	
----	----	--	----	----	--

(2) オランダ商館の医師シーボルトが開いた私塾で、高野長英・伊東玄朴らのすぐれた医者を輩出した。

- ①鳴滝塾      ②咸宜園      ③松下村塾      ④古義堂      ⑤適塾

用語	43		地図	44	
----	----	--	----	----	--

(3) 鎌倉時代に道元が開いた寺院で、総持寺とともに曹洞宗の本山とされる。

- ①久遠寺      ②永平寺      ③円覚寺      ④建仁寺      ⑤建長寺

用語	45		地図	46	
----	----	--	----	----	--

(4) 大戦景気とシベリア出兵による物価急騰に怒った漁師の女房たちの一揆が全国に拡大し、寺内内閣が退陣に追い込まれた。

- ①日比谷焼打ち事件      ②血税一揆      ③米騒動  
④秩父事件      ⑤村方騒動

用語	47		地図	48	
----	----	--	----	----	--

(5) 1858年に調印された日米修好通商条約によって開港した港のうち、大政奉還までの貿易累計額がもっとも多かった。

- ①長崎      ②横浜      ③箱館      ④新潟      ⑤神戸

用語	49		地図	50	
----	----	--	----	----	--



2 次の設問(1)~(5)を読んで、それぞれの正解を語群から1つ選び、解答欄にマークしなさい。(各3点×5=15点)

- (1) 江戸時代中期の朱子学者で、対馬藩に仕えて対朝鮮外交に尽力したのは誰か。  
①雨森芳洲 ②木下順庵 ③山崎闇斎 ④野中兼山 ⑤新井白石

51

- (2) 1911年に青鞞社を創立して婦人運動を始め、「元始、女性は太陽であった」と書いたのは誰か。

①市川房枝 ②与謝野晶子 ③山川菊栄 ④平塚らいてう ⑤高群逸枝

52

- (3) キリシタン大名の元摂津高槻城主で、のち禁教令によりマニラへ追放されたのは誰か。

①高山右近 ②大友宗麟 ③大村純忠 ④小西行長 ⑤有馬晴信

53

- (4) 江戸時代前期の芸術家で、上絵付の技法により赤絵磁器を完成させたのは誰か。

①本阿弥光悦 ②酒井田柿右衛門 ③尾形乾山  
④野々村仁清 ⑤俵屋宗達

54

- (5) 元・高麗が2度にわたって対馬や博多湾岸などを急襲したとき、石塁を築くなどして防いだ鎌倉幕府執権は誰か。

①北条時頼 ②北条義時 ③北条時宗 ④北条泰時 ⑤北条高時

55

3 次の設問(1)~(5)を読んで、それぞれの正解を語群から1つ選び、解答欄にマークしなさい。(各3点×5=15点)

- (1) 中国に渡った円仁が、仏教修行や巡礼について記した旅行記を何というか。

①『参天台五台山記』 ②『入唐行歴抄』 ③『入唐求法巡礼行記』  
④『日本霊異記』 ⑤『渡宋記』

56

- (2) 鎌倉時代前期までの歴史を、天台座主の慈円が「道理」によって説明した書物を何というか。

①『吾妻鏡』 ②『大鏡』 ③『源平盛衰記』  
④『愚管抄』 ⑤『釈日本紀』

57

- (3) ロシア船の南下に対して、林子平が海防の必要性を説いた書物を何というか。
- ①『北槎聞略』      ②『憤機論』      ③『戊戌夢物語』  
 ④『赤蝦夷風説考』      ⑤『海国兵談』

58

- (4) 江戸時代後期の俳人である小林一茶の代表的俳句集を何というか。
- ①『若菜集』      ②『おらが春』      ③『笈の小文』  
 ④『奥の細道』      ⑤『蕪村句集』

59

- (5) 1910年に創刊され、楽天的な人道主義・理想主義を標榜した文芸雑誌を何というか。
- ①『文芸春秋』      ②『改造』      ③『赤い鳥』  
 ④『新思潮』      ⑤『白樺』

60

**4** 次の設問(1)～(5)を読んで、それぞれの正解を語群から1つ選び、解答欄にマークしなさい。(各3点×5=15点)

- (1) 聖武天皇のときの政策として正しいものはどれか。
- ①平城京遷都      ②国分寺建立      ③風土記編纂  
 ④庚午年籍作成      ⑤養老律令制定

61

- (2) 室町将軍を補佐して政務を統轄した管領である守護大名はどれか。
- ①斯波氏      ②赤松氏      ③京極氏      ④一色氏      ⑤山名氏

62

- (3) 徳川綱吉のときの政策として正しいものはどれか。
- ①上知令      ②鎖国令      ③生類憐みの令      ④相对済し令  
 ⑤異国船打払令

63

- (4) 明治時代の教育者とその人物が創立した教育機関（現在の校名）の組み合わせで誤っているものはどれか。
- ①大隈重信・早稲田大学      ②津田梅子・東洋英和女学院大学  
 ③福沢諭吉・慶応義塾大学      ④新島 襄・同志社大学  
 ⑤山田顕義・日本大学

64

- (5) GHQによる「五大改革指令」について誤っているものはどれか。
- ①労働組合結成の促進      ②自由主義教育の実施  
 ③経済機構の民主化      ④普通選挙の実施  
 ⑤圧政的諸制度の撤廃

65

5 次の設問(1)~(5)を読んで、それぞれの正解を語群から1つ選び、解答欄にマークしなさい。(各3点×5=15点)

(1) 洪武帝から「日本国王」に任命され、倭寇の取り締まりを要求された征西府の将軍はだれか。

- ①北条時行 ②足利直冬 ③北畠顕家 ④今川了俊 ⑤懷良親王

66

(2) 戦国大名とその城下町の組み合わせで誤っているものはどれか。

- ①朝倉義景・越前一乗谷 ②上杉謙信・越後春日山  
③浅井長政・近江安土 ④北条氏康・相模小田原  
⑤武田信玄・甲斐府中

67

(3) 江戸時代の「五街道」に含まれない街道はどれか。

- ①中山道 ②東山道 ③東海道 ④日光道中 ⑤甲州道中

68

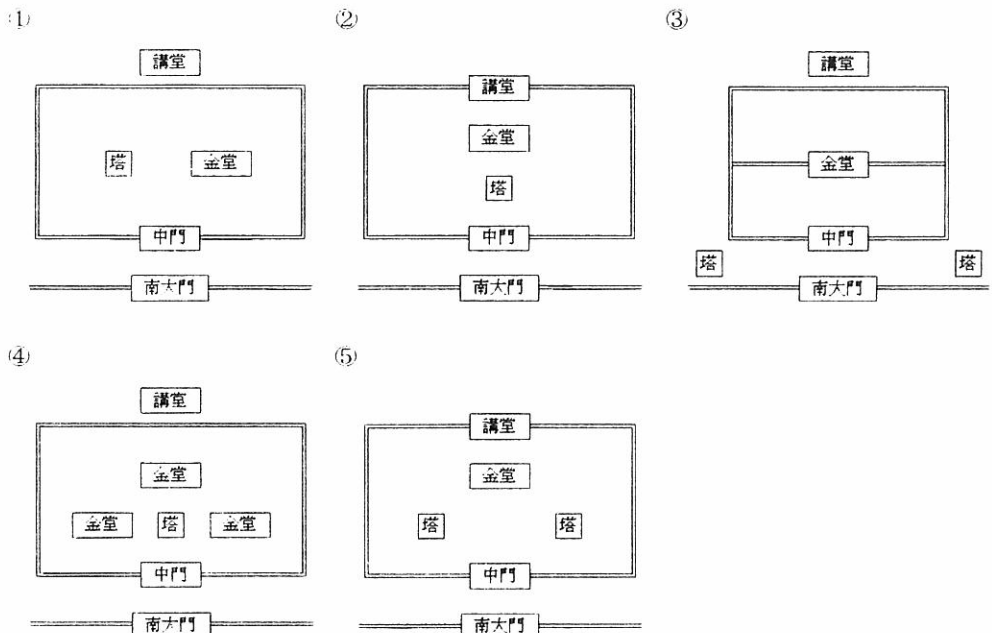
(4) 「統帥権干犯問題」を引き起こし、浜口雄幸首相が狙撃される要因となった海軍軍縮会議が開かれた場所はどれか。

- ①ジュネーヴ ②ヴェルサイユ  
③ベルリン ④ロンドン ⑤ワシントン



69

(5) 以下の伽藍配置のうち、いわゆる「薬師寺式」はどれか。

70



6 次の写真(1)～(5)の美術品・建築物の名称を語群①～⑤から1つ選び、(1)～(4)はそれにもっとも関係の深い人物、(5)はその所在地を語群⑥～⑩から1つ選んで、解答欄にマークしなさい。(各2点×10=20点)



- (1) ①救世観音像                      ②百済観音像                      ③聖観音像                      ④夢違観音像  
 ⑤不空罽索観音像                  ⑥蘇我馬子                      ⑦秦河勝                      ⑧聖武天皇  
 ⑨中大兄皇子                      ⑩厩戸皇子

美術品名	71		人物名	72	
------	----	--	-----	----	--

- (2) ①富嶽三十六景                      ②金沢八景                      ③東海道五十三次  
 ④木曾街道六十九次                  ⑤東都名所                      ⑥葛飾北斎  
 ⑦喜多川歌麿                      ⑧歌川豊国                      ⑨安藤広重  
 ⑩鈴木春信

美術品名	73		人物名	74	
------	----	--	-----	----	--

- (3) ①麗子像                      ②あやめの衣                      ③池畔納涼                      ④湖畔  
 ⑤わだつみのいろこの宮                  ⑥藤島武二                      ⑦岸田劉生  
 ⑧黒田清輝                      ⑨岡田三郎助                      ⑩青木繁

美術品名	75		人物名	76	
------	----	--	-----	----	--

- (4) ①西本願寺飛雲閣                      ②慈照寺銀閣                      ③桂離宮  
 ④日光東照宮                      ⑤修学院離宮                      ⑥足利義政  
 ⑦後水尾天皇                      ⑧豊臣秀吉                      ⑨徳川家康                      ⑩智仁親王

美術品名	77		人物名	78	
------	----	--	-----	----	--

- (5) ①平等院鳳凰堂                      ②中尊寺金色堂                      ③白水阿弥陀堂                      ④富貴寺大堂  
 ⑤三仏寺投入堂                      ⑥大分県                      ⑦鳥取県                      ⑧岩手県  
 ⑨京都府                      ⑩福島県

美術品名	79		所在地名	80	
------	----	--	------	----	--